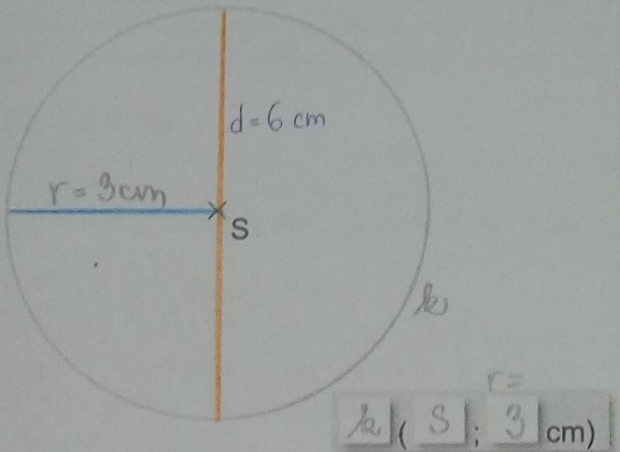


1

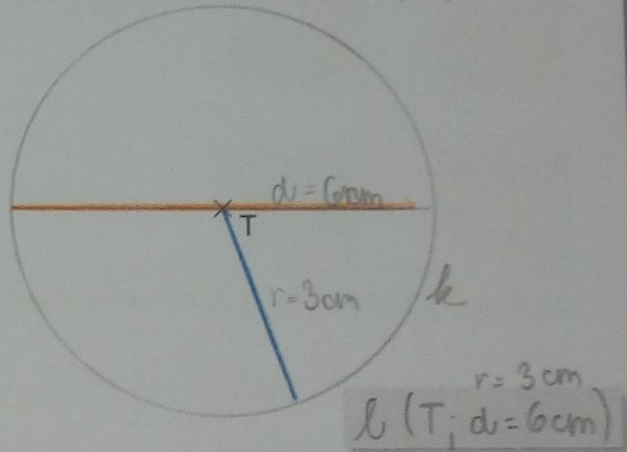
Podle zadání řešte úkoly. U každého úkolu proveďte zápis.

- A. Narýsujte kružnici k se středem v bodě S , $r = 3$ cm.

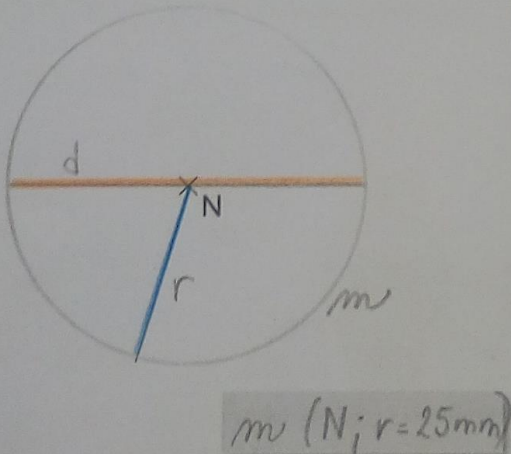


- B. Narýsujte kružnici l se středem v bodě T , $d = 6$ cm.

$$r = 6 : 2 = 3 \text{ cm}$$

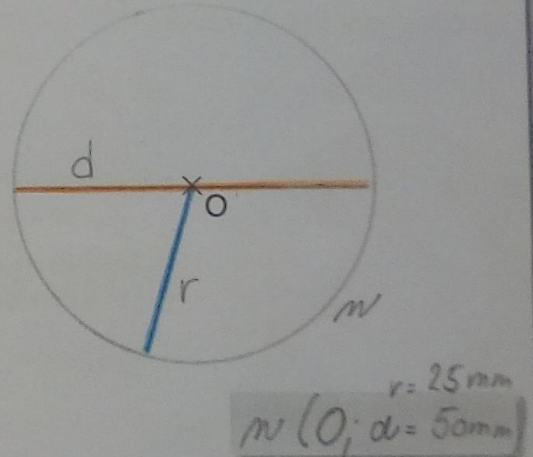


- C. Narýsujte kružnici m se středem v bodě N , $r = 25$ mm.

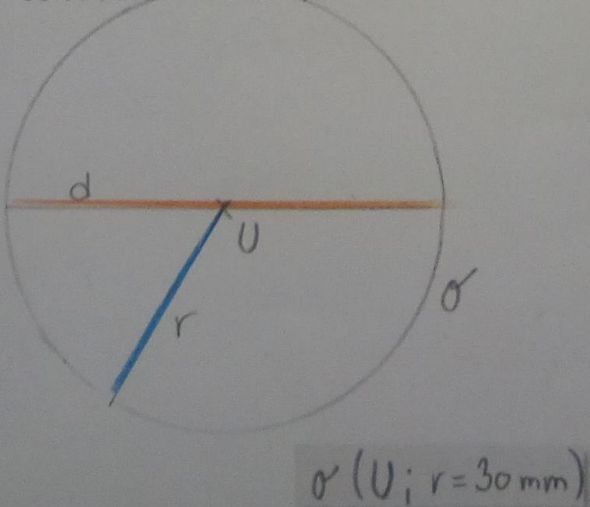


- D. Narýsujte kružnici n se středem v bodě O , $d = 50$ mm.

$$r = 50 : 2 = 25 \text{ mm}$$



- E. Vyznačte bod U . Narýsujte kružnici o se středem v bodě U , $r = 30$ mm.



- F. Vyznačte bod H . Narýsujte kružnici p se středem v bodě H , $d = 4$ cm.

$$r = 4 : 2 = 2 \text{ cm}$$

